



государственное автономное профессиональное образовательное
учреждение Самарской области
«Самарский колледж сервиса производственного оборудования
имени Героя Российской Федерации
Е.В. Золотухина»

КОНТРОЛЬНО-ИЗМЕРИТЕЛЬНЫЕ МАТЕРИАЛЫ
ПО УЧЕБНОМУ ПРЕДМЕТУ
«ГЕОГРАФИЯ»
программа основного общего образования

2022 г.

**Контрольно-измерительные материалы по учебному предмету
«География»
программа основного общего образования**

Одобрено
на заседании методического совета

Протокол № 1
от «29» августа 2022 г.

**Контрольно-измерительные материалы:
Итоговая контрольная работа по географии 5 класс**

1 вариант

1. **Кто из ученых древности впервые использовал слово «география»?**
а) Пифагор; б) Аристотель; в) Пифей; г) Эратосфен.
2. **Вид изображения, позволяющий подробно изучить небольшой по площади участок земной поверхности:**
а) глобус; б) географическая карта; в) план; г) аэрофотоснимок.
3. **Какого из указанных направлений по сторонам горизонта не существует?**
а) Ю б) ЗВ в) СЗ г) ЮВ.
4. **Следствием осевого вращения Земли является**
а) смена времён года в) смена дня и ночи
б) смена погоды г) смена времени
5. **Первое путешествие вокруг Африки совершили:**
а) викинги; б) финикийцы; в) древние греки; г) индусы.
6. **Какие из перечисленных объектов расположены на территории Евразии?**
а) Китай, Амазонка, Эйр-Норт;
б) Амур, Байкал, Рейн;
в) Аппалачи, Волга, Россия;
г) Эйр-Норт, Байкал, Виктория.
7. **Река, ручей, озеро, море входят в состав:**
а) атмосферы; в) биосферы;
б) гидросферы; г) литосферы.
8. **Нижняя граница географической оболочки проходит:**
а) в атмосфере; б) в гидросфере; в) в литосфере; г) в мантии.
9. **Сколько стран расположено на территории Антарктиды?**
а) 1 б) 6 в) 12 г) ни одной
10. **Расставьте материки Земли в порядке возрастания из площади:**
а) Антарктида;
б) Африка;
в) Евразия;
г) Австралия;
11. **Установите соответствие между названием материка и характерной его особенностью:**
1) Евразия; а) Самый жаркий;
2) Африка; б) Самый холодный;
3) Антарктида; в) Самый большой;
4) Австралия; г) Самый маленький.
12. **Из предложенного списка выберите 3 объекта природы.**
а) компьютер;
б) хлеб;
в) песок;
г) море;
д) ручка;
е) собака.
13. **Кто совершил первое кругосветное путешествие?**
14. **Какой метод географических исследований применен при составлении этого текста?**

Тропические леса занимают значительную часть лесной площади мира и являются главным источником древесины ценных пород. Это огромная кладовая пищевых, технических, лекарственных и других полезных растений, широко вошедших в культуру и быт народов многих стран, а также послуживших источником генофонда диких

сородичей для селекции и выведения культурных сортов. Чай и кофе, бананы и цитрусовые, гевея и тунг, как и многие сотни других ныне культивируемых полезных растений, являются выходцами из тропических лесов.

2 вариант

1. **На русский язык слово «география» переводится как:**
 - а) землеочертание; в) земленачертание;
 - б) землеописание; г) землеписание.
2. **Точные очертания материков и островов возможно получить при использовании:**
 - а) рисунка земной поверхности;
 - б) фотографии, сделанной с поверхности Земли;
 - в) космического снимка;
 - г) фотографии, сделанной с высоты десятиэтажного дома.
3. **Какого из указанных направлений по сторонам горизонта не существует?**
 - а) Ю б) СВ в) СЗ г) ЮС.
4. **По орбите вокруг Солнца Земля совершает полный оборот за:**
 - а) сутки; б) месяц; в) год; г) день.
5. **Первым из европейцев, совершившим путешествие в Китай, является**
 - а) Марко Поло; б) Афанасий Никитин; в) Васко да Гама; г) Хр. Колумб.
6. **Какие из перечисленных объектов расположены на территории Африки?**
 - а) Нил, Амазонка, Миссисипи;
 - б) Амур, Конго, Замбези;
 - в) Виктория, Танганьика, Нил;
 - г) Виктория, Танганьика, Байкал.
7. **Какая группа объектов природы входит в состав литосферы?**
 - а) море, горы, равнины;
 - б) горы, муравей, облака;
 - в) возвышенность, горы, низменность;
 - г) облако, родник, овраг.
8. **Верхняя граница географической оболочки проходит:**
 - а) в атмосфере; б) в гидросфере; в) литосфере; г) мантии.
9. **Европу отделяют от Азии:**
 - а) Уральские горы б) Кавказские горы в) Гималаи г) Тибет
10. **Расставьте океаны в порядке увеличения их площади:**
 - а) Тихий; б) индийский; в) Северный Ледовитый; г) Атлантический.
11. **Установите соответствие между названием материка и расположенной на его территории системой:**
 - 1) Евразия а) Гималаи;
 - 2) Южная Америка; б) Аппалачи;
 - 3) Северная Америка; в) Анды;
 - 4) Австралия; г) Большой Водораздельный хребет.
12. **Из предложенного списка выберите 3 объекта природы.**
 - а) почва;
 - б) телевизор;
 - в) родник;
 - г) портфель;
 - д) дерево;
 - е) одежда.
13. **Кто открыл Америку?**
14. **Какие географические методы исследования можно использовать для подтверждения данной информации:**

Тропические леса занимают большие пространства по обе стороны экватора в Америке, Африке, в южной и юго-восточной частях Азии и на прилегающих к ней островах, в Австралии.

В лесных водоемах тропической Америки растет знаменитая виктория-регия. Ее плавающие в воде листья достигают в диаметре 2 м, а огромные чудо-цветки распускаются лишь на две ночи и два вечера, наполняя воздух дурманящим ароматом. В первый вечер цветки белые с красновато-розовой серединой, а во второй — переливаются всеми оттенками от малиново-красного до темно-пурпурного.

СПЕЦИФИКАЦИЯ

итоговой проверочной работы по географии за курс 5 класса школы.

1. Назначение КИМ итоговой контрольной работы.

Контрольные измерительные материалы позволяют установить уровень освоения пятиклассниками Федерального компонента государственного стандарта основного общего образования по географии 5 класса.

2. Документы, определяющие содержание КИМ.

Содержание итоговой работы определяется на основе документов:

- Федеральный компонент государственного стандарта основного общего образования (приказ Минобрнауки России от 05.03.2004 №1089)

- Программа Домогацких Е.М. (Программа курсов «География» для 5-9 классов. - М.: Русское слово, 2012)

3. Подходы к отбору содержания, разработке структуры КИМ

Отбор содержания, подлежащего проверке в итоговой работе осуществляется в соответствии с разделом «Обязательный минимум содержания основных образовательных программ» Федерального компонента государственных стандартов основного общего образования. В каждый вариант включены задания, проверяющие уровень знания содержания всех основных разделов курса Введение в географию и выполнение основных требования к уровню подготовки восьмиклассников.

4. Структура проверочной работы.

Работа состоит из 14 заданий. Задания проверяют знания, составляющие основу географической грамотности, а также способность применять знания и умения в контекстах, соответствующих основным разделам курса. Работа содержит 9 заданий с выбором одного верного ответа из четырех предложенных, 1 задание на определение правильного порядка географического явления, 1 задание на сопоставление, 1 задание с выбором трех правильных ответов из 6, 1 задание с кратким ответом, 1 задания на выявление географического метода по описанию.

Распределение заданий проверочной работы по частям работы.

№ п/п	Части работы	Число заданий	Максимальный первичный балл	Тип заданий.
1	Часть I	9 простых	9	Выбор одного правильного ответа из 4.
2	Часть II	4 средней сложности	4	Определить правильные порядок географического явления. Сопоставить. Выбор 3 правильных ответов из 6. Дать краткий ответ
3	Часть III	1 сложное	2	Определить географические методы по описанию.

5. Распределение заданий проверочной работы по содержанию и видам учебной деятельности.

Содержание проверочной работы можно разделить на 6 блоков обязательного минимума содержания образования.

Первый блок включает задания №1, 14, по теме «Наука география». Второй – задания №2-4 по теме «Земля и ее изображение». Третий – задания №5, 13 по теме «История географических открытий». Четвертый – задания №6, 9-11 по теме «Путешествие по планете Земля». Пятый – задания №7, 8, 12 по теме «Природа Земли».

Проверочная работа предусматривает разные виды учебной деятельности. Задания I части (1-9) позволяют проверить освоение наиболее значимого содержания: знание фактов и закономерностей по данным темам, элементарных причинно-следственных связей, сформированность простейших географических умений и пространственных представлений. Во II части представлены задания (10-13), в которых необходимо сделать множественный выбор или дать краткий ответ. Они предполагают более глубокое знание фактов и сформированность пространственных представлений о конкретных территориях. Сложное задание III части (19) направлено на проверку умения определять географический метод по описанию.

Распределение заданий по содержанию и видам учебной деятельности.

Содержание	Воспроизведение знаний	Применение знаний в знакомой ситуации	Применение знаний в измененной ситуации	Итого
Наука география	1 (№1)	-	1 (№14)	2
Земля и ее изображение	2 (№3, №4)	1 (№2)	-	3
История географических открытий	1 (№5)	1 (№13)	-	2
Путешествие по планете Земля	2 (№6, №9)	2 (№10, №11)	-	4
Природа Земли	2 (№7, №8)	1 (№12)	-	3

7. Распределение заданий проверочной работы по уровню сложности.

Работа включает в себя 64% простых заданий, 29% средней сложности и 7% сложных.

8. Время выполнения работы.

На выполнение проверочной работы отводится 45 минут.

9. Число вариантов в работе.

Подготовлено два варианта, в которых даны однотипные задания на проверку одинаковых знаний, умений и тем курса.

Ключ:

Вариант 1. 1г, 2в, 3б, 4в, 5б, 6б, 7б, 8в, 9г, 10габв, 11-1в,2а,3б,4г, 12вге, 13.Магеллан. 14.

Вариант 2. 1б, 2в, 3г, 4в, 5а, 6в, 7в, 8а, 9а, 10вбга, 11-1а,2в,3б,4г, 12авд, 13.Колумб, 14

10. Система оценивания отдельных заданий и работы в целом.

За каждый правильный ответ первой части и второй части (№1-13) ставится 1 балл. За правильно названный метод в 14 вопросе (III часть) – 1 балл, всего 2 балла. Максимальный балл за работу – 15 баллов. «3» получает работа с 5-8, «4» - с 9-12, «5» - с 13-15 баллами.

Перечень проверяемых требований стандарта

№ задания	Проверяемое требование	Тип задания	Количество ответов	Время выполнения задания.
-----------	------------------------	-------------	--------------------	---------------------------

- A9. Уменьшенное изображение поверхности Земли на плоскости при помощи условных знаков, называется
- 1) рисунок
 - 2) аэрофотоснимок
 - 3) географическая карта
 - 4) схема
- A10. Площадь поверхности нашей планеты составляет
- 1) 170 000 км²
 - 2) 40 000 км
 - 3) 510 000 000 км²
 - 4) 20 000 км
- A11. Географическая широта бывает
- 1) западной и северной
 - 2) западной и южной
 - 3) южной и северной
 - 4) западной и восточной
- A12. Линии, проведенные параллельно экватору называются
- 1) параллели
 - 2) горизонталы
 - 3) меридианы
 - 4) изобаты
- A13. Список всех условных знаков, которые использованы на карте называется
- 1) план
 - 2) легенда
 - 3) рассказ
 - 4) шкала
- A14. Материковая кора на равнинах в среднем составляет
- 1) 20 – 30 км
 - 2) 30 – 40 км
 - 3) 70 – 100 км
 - 4) 130 – 140 км
- A15. Литосфера – это
- 1) воздушная оболочка Земли
 - 2) водная оболочка Земли
 - 3) твердая оболочка Земли
 - 4) оболочка, где развивается жизнь
- A16. К магматическим горным породам относятся
- 1) известняк
 - 2) гранит
 - 3) кварцит
 - 4) торф
- A17. В центре Земли находится
- 1) мантия
 - 2) земная кора
 - 3) эпицентр
 - 4) ядро
- A18. Все неровности земной поверхности образуют
- 1) горы
 - 2) равнины
 - 3) рельеф
 - 4) впадины
- A19. Наивысшая точка Земли имеет высоту
- 1) 1000 м
 - 2) 1842 м
 - 3) 8848 м
 - 4) 11022 м
- A20. Наука о землетрясениях – это
- 1) сейсмология
 - 2) почвоведение
 - 3) география
 - 4) геология
- A21. Самый высокий действующий вулкан России
- 1) Этна
 - 2) Везувий
 - 3) Килиманджаро
 - 4) Ключевская Сопка
- A22. Периодически фонтанирующие горячие источники называются
- 1) вулкан
 - 2) гейзер
 - 3) родник
 - 4) фонтан
- A23. Какие горы расположены на материке Северная Америка
- 1) Кавказские
 - 2) Драконовы
 - 3) Анды
 - 4) Кордильеры
- A24. Отвалы пустой породы возле шахт называются
- 1) ямы
 - 2) горы
 - 3) карьеры
 - 4) терриконы
- A25. Часть материковой земной коры продолжающейся под океанами до глубины 200 м называют

- 1) шельфом 2) котловиной 3) ложем 4) впадиной

A26. Архипелаг – это

- 1) небольшой участок суши в океане 2) участок суши, глубоко впадающий в океан 3) огромный участок суши 4) группа островов, лежащих недалеко друг от друга

A27. Самый маленький океан на Земле

- 1) Атлантический 2) Индийский 3) Северный Ледовитый 4) Тихий

A28. Какую часть земной поверхности занимает Мировой океан

- 1) 1/2 2) 2/5 3) 3/4 4) 2/6

A29. Лава, выбрасываемая из кратера вулкана в виде мелких частиц – это

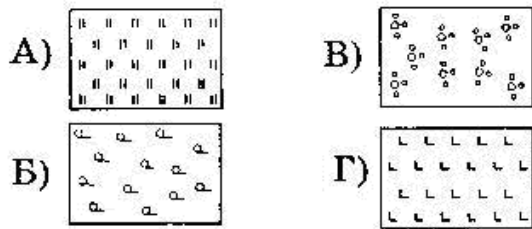
- 1) вулканический пепел 2) вулканические бомбы 3) вулканические газы 4) хлопушки

A30. Каким цветом на физической карте обозначают равнины

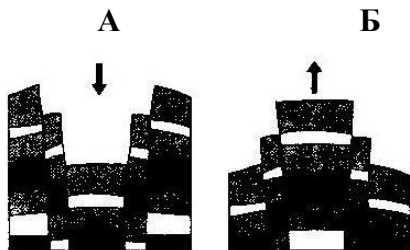
- 1) зелёным 2) жёлтым 3) коричневым 4) синим

Часть В

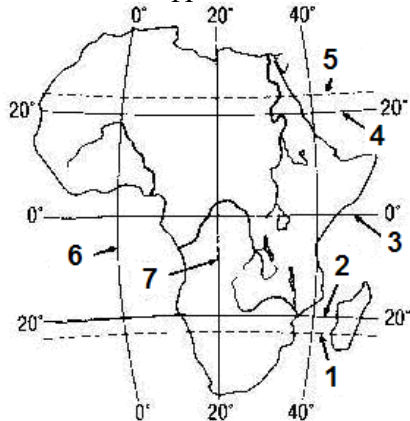
B1. Подпишите, какой условный знак изображен на рисунке под буквой В



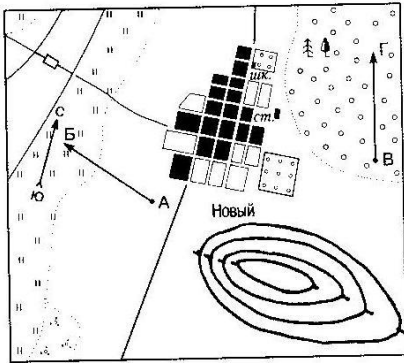
B2. Определите, что изображено на рисунке под буквой Б



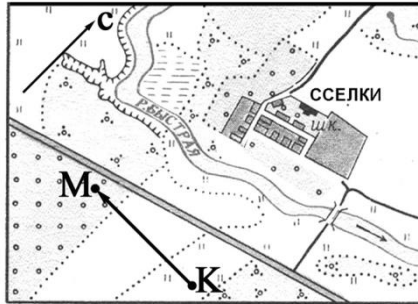
B3. Какой цифрой показан на карте Африки Южный тропик?



B4. Какой склон холма изображенного на рисунке более крутой?



В5. По какому азимуту нужно идти, чтобы попасть из точки **М** в точку **К**? Ответ запишите цифрами.



Вариант 2

Часть А

- A1. «География» в переводе
 1) измерение Земли 2) изучение Земли 3) описание Земли 4) исследование Земли
- A2. Первым европейцем, достигшим Китая, был:
 1) М. Поло 2) А. Никитин 3) Х. Колумб 4) Ф. Магеллан
- A3. Один оборот вокруг Солнца Земля совершает за
 1) 12 часов 2) 24 часа 3) 365 суток 4) 370 суток
- A4. Азимут измеряется в
 1) часах 2) градусах 3) метрах 4) километрах
- A5. Определите, какой из масштабов наименьший
 1) 1 : 1000 2) 1 : 5000 3) 1 : 10000 4) 1 : 500000
- A6. Какому азимуту соответствует направление на восток
 1) 0 ° 2) 90 ° 3) 180 ° 4) 270 °
- A7. Превышение точки земной поверхности по отвесной линии над уровнем моря по отвесной линии называется
 1) относительная высота 2) абсолютная высота 3) высота 4) горизонталь
- A8. Направление склонов указывают короткие черточки, которые называются
 1) азимут 2) бергштрихи 3) горизонт 4) горизонталь
- A9. На политических картах нанесены
 1) заводы 2) горы и равнины 3) природные зоны 4) границы государств
- A10. Длина нашей планеты по окружности равна
 1) 170 000 км² 2) 40 000 км 3) 510 000 000 км² 4) 20 000 км
- A11. Географическая долгота бывает
 1) западной и северной 2) западной и южной

- 3) южной и северной
4) западной и восточной
- A12. Линии, показывающие кратчайший путь от Северного полюса до Южного называются
1) параллели 2) горизонталы 3) меридианы 4) изотермы
- A13. Линии, соединяющие точки с одинаковыми глубинами называются
1) параллели 2) горизонталы 3) меридианы 4) изобаты
- A14. Материковая кора в горах в среднем составляет
1) 20 – 30 км 2) 30 – 40 км 3) 70 – 100 км 4) 130 – 140 км
- A15. Гидросфера – это
1) воздушная оболочка Земли 3) твердая оболочка Земли
2) водная оболочка Земли 4) оболочка, в которой развивается жизнь
- A16. К осадочным горным породам относятся
1) известняк 2) гранит 3) кварцит 4) мрамор
- A17. На поверхности Земли находится
1) мантия 2) земная кора 3) эпицентр 4) ядро
- A18. Выпуклая форма рельефа, возвышающаяся более чем на 200 м, называется
1) гора 2) равнина 3) низменность 4) впадина
- A19. Самая глубокая впадина в океане имеет глубину
1) 1000 м 2) 1842 м 3) 8848 м 4) 11022 м
- A20. Прибор, регистрирующий колебания земной коры, - это
1) сейсмографы 3) термометры
2) барометры 4) эхолоты
- A21. Самый высокий потухший вулкан в Африке
1) Этна 3) Килиманджаро
2) Везувий 4) Ключевская Сопка
- A22. Горы, которые имеют кратер и жерло называются
1) вулканы 2) гейзеры 3) родники 4) фонтаны
- A23. Какие горы расположены на материке Евразия
1) Кавказские 2) Драконовы 3) Анды 4) Кордильеры
- A24. При открытой добыче полезных ископаемых образуются ямы, которые называются

Работа состоит из 14 заданий. Задания проверяют знания, составляющие основу географической грамотности, а также способность применять знания и умения в контекстах, соответствующих основным разделам курса. Работа содержит 9 заданий с выбором одного верного ответа из четырех предложенных, 1 задание на определение правильного порядка географического явления, 1 задание на сопоставление, 1 задание с выбором трех правильных ответов из 6, 1 задание с кратким ответом, 1 задания на выявление географического метода по описанию.

Распределение заданий проверочной работы по частям работы.

№ п/п	Части работы	Число заданий	Максимальный первичный балл	Тип заданий.
1	Часть I	9 простых	9	Выбор одного правильного ответа из 4.
2	Часть II	4 средней сложности	4	Определить правильные порядок географического явления. Сопоставить. Выбор 3 правильных ответов из 6. Дать краткий ответ
3	Часть III	1 сложное	2	Определить географические методы по описанию.

5. Распределение заданий проверочной работы по содержанию и видам учебной деятельности.

Содержание проверочной работы можно разделить на 6 блоков обязательного минимума содержания образования.

Первый блок включает задания №1, 14, по теме «Наука география». Второй – задания №2-4 по теме «Земля и ее изображение». Третий – задания №5, 13 по теме «История географических открытий». Четвертый – задания №6, 9-11 по теме «Путешествие по планете Земля». Пятый – задания №7, 8, 12 по теме «Природа Земли».

Проверочная работа предусматривает разные виды учебной деятельности. Задания I части (1-9) позволяют проверить освоение наиболее значимого содержания: знание фактов и закономерностей по данным темам, элементарных причинно-следственных связей, сформированность простейших географических умений и пространственных представлений. Во II части представлены задания (10-13), в которых необходимо сделать множественный выбор или дать краткий ответ. Они предполагают более глубокое знание фактов и сформированность пространственных представлений о конкретных территориях. Сложное задание III части (19) направлено на проверку умения определять географический метод по описанию.

Распределение заданий по содержанию и видам учебной деятельности.

Содержание	Воспроизведение знаний	Применение знаний в знакомой ситуации	Применение знаний в измененной ситуации	Итого
Наука география	1 (№1)	-	1 (№14)	2
Земля и ее изображение	2 (№3, №4)	1 (№2)	-	3
История географических	1 (№5)	1 (№13)	-	2

открытый				
Путешествие по планете Земля	2 (№6, №9)	2 (№10, №11)	-	4
Природа Земли	2 (№7, №8)	1 (№12)	-	3

7. Распределение заданий проверочной работы по уровню сложности.

Работа включает в себя 64% простых заданий, 29% средней сложности и 7% сложных.

8. Время выполнения работы.

На выполнение проверочной работы отводится 45 мину.

9. Число вариантов в работе.

Подготовлено два варианта, в которых даны однотипные задания на проверку одинаковых знаний, умений и тем курса.

Ключ:

Вариант 1. 1г, 2в, 3б, 4в, 5б, 6б, 7б, 8в, 9г, 10габв, 11-1в,2а,3б,4г, 12вге, 13.Магеллан. 14.

Вариант 2. 1б, 2в, 3г, 4в, 5а, 6в, 7в, 8а, 9а, 10вбга, 11-1а,2в,3б,4г, 12авд, 13.Колумб, 14

10. Система оценивания отдельных заданий и работы в целом.

За каждый правильный ответ первой части и второй части (№1-13) ставится 1 балл. За правильно названный метод в 14 вопросе (III часть) – 1 балл, всего 2 балла. Максимальный балл за работу – 15 балла. «3» получает работа с 5-8, «4» - с 9-12, «5» - с 13-15 баллами.

Перечень проверяемых требований стандарта

№ задания	Проверяемое требование	Тип задания	Количество ответов	Время выполнения задания.
1	Знать/понимать	Выбор	4	2 мин.
2	Уметь	Выбор	4	2 мин.
3	Знать/понимать	Выбор	4	2 мин.
4	Знать/понимать	Выбор	4	2 мин.
5	Знать/понимать	Выбор	4	2 мин.
6	Знать/понимать	Выбор	4	2 мин.
7	Знать/понимать	Выбор	4	2 мин.
8	Знать/понимать	Выбор	4	2 мин.
9	Знать/понимать	Выбор	4	2 мин.
10	Уметь	Определить правильные порядок географического явления.	4	3 мин.
11	Уметь	Сопоставить	4/4	3 мин.
12	Уметь	Выбор	6	3 мин.
13	Уметь	Дать краткий ответ	-	4 мин.
14	Использовать приобретенные знания и умения в практической деятельности и повседневной жизни	Определить методы географии по описанию	-	7 мин.

Итоговый тест по географии для 7-го класса.

Вариант 1.

Выберите один правильный ответ из четырех предложенных.

1. Правильно выберите масштаб карты, если на ней расстояние между двумя населёнными пунктами 5см, а на местности 5 км:

1) 1:5000; 2) 1:1000000; 3) 1:10000; 4) 1:100000.

2. Самой полноводной рекой Африки является:

1) Нигер; 2) Конго; 3) Нил; 4) Замбези.

3. Назовите государство Азии:

1) Боливия; 2) Пакистан; 3) Дания; 4) Мексика.

4. Кто впервые доказал единство Мирового океана:

1) Эратосфен; 2) Колумб; 3) Кук; 4) Магеллан.

5. Какой стороне горизонта соответствует азимут величиной 135°:

1) северо-восток; 2) юго-запад; 3) северо-запад; 4) юго-восток.

6. Самые высокие температуры воздуха на земле отмечены в пределах:

1) Сахары; 2) Амазонии; 3) Аравийского п-ва; 4) Центральной Австралии.

7. Антарктида была открыта в 1820 году:

1) И.Ф. Крузенштерном и Ю.Ф. Лисянским; 2) Д. Куком и В. Янсзоном; 3) Ф.Ф. Беллинсгаузеном и М.П. Лазаревым; 4) Ф. Амундсеном и Р. Скоттом.

8. Высочайшей вершиной Анд является гора:

1) Чимборасо; 2) Котопахи; 3) Аконкагуа; 4) Ильямпу.

9. Горную систему, образовавшуюся в кайнозое и расположенную в центре Европы, называют:

1) Пиренеями; 2) Кавказом; 3) Балканами; 4) Альпами.

10. Большинство рек Евразии имеют:

1) грунтовое питание; 2) снеговое; 3) дождевое; 4) ледниковое.

Напишите словами определения или понятия.

11. Как называются участки суши с абсолютной высотой от 0м-200м?

12. Ветер, постоянно дующий от тропиков в сторону экватора, называется...

13. Водные пространства, глубоко вдающиеся в сушу, называются...

14. Жители Южной Америки потомки от смешанных браков индейцев и негров, называются...

15. Как называется западная часть материка Евразии?

Установите соответствие.

16. Установите соответствие между крайними точками Северной Америки и их координатами:

1) м. Марьято	а) 73°с.ш., 94°30' з.д.
2) м. Принца-Уэльского	б) 53°с.ш., 56°з.д.
3) м. Мерчисон	в) 65°с.ш., 168°з.д.
4) м. Сент-Чарльз	г) 8°с.ш., 81°з.д.

17. Установите соответствие между платформами и формами рельефа:

1) Восточно-Европейская	а) Среднесибирское плоскогорье;
2) Индейская	б) Русская равнина;
3) Сибирская	в) Плоскогорье Декан.

Сконструируйте правильное утверждение.

18. Берега Австралии слабо изрезаны, при этом выделяются заливы Большой Австралийский и (1), на севере расположен крупнейший полуостров (2), самым большим островом материка является (3).

Слова для вставки:

1 – (Кампече), (Карпентария), (Бискайский)

2 – (Кейп-Йорк), (Юкатан), (Сьюард)

3 – (Сулавеси), (Тимор), (Тасмания).

Вариант 2.

Выберите один правильный ответ из четырех предложенных.

1. Если на географической карте отрезок длиной 1 см соответствует 200 км земной поверхности, то масштаб этой карты:

1) 1:200; 2) 1:200000; 3) 1:20000000; 4) 1:200000000.

2. Большинство из озёр Австралии:

1) сточные и пресные; 2) сточные солёные; 3) бессточные и пресные; 4) бессточные и солёные.

3. Назовите государство Африки:

1) Перу; 2) Дания; 3) Ливия; 4) Боливия.

4. Сколько соли можно получить из 1 тонны воды Персидского залива, если её солёность 40‰:

1) 40г, 2) 400г, 3) 4 кг, 4) 40 кг.

5. Какой стороне горизонта соответствует азимут величиной 270°:

1) север; 2) запад; 3) северо-запад; 4) юго-восток.

6. Постоянный ветер, дующий от тропиков в сторону 60° широт, называется:

1) муссоном; 2) пассатом; 3) западным переносом; 4) северо-восточным переносом.

7. Среди исследователей Центральной и Восточной Африки конца 19 века особое место занимает:

1) Н.М. Пржевальский; 2) Н.Н. Миклухо-Маклай; 3) В.В. Юнкер; 4) О.Ю. Шмидт.

8. Высочайшей вершиной Альп является гора:

1) Чимборасо; 2) Монблан; 3) Мак – Кинли; 4) Ильямпю.

9. Самый высокий континент на земле:

1) Евразия; 2) Антарктида; 3) Австралия; 4) Африка.

10. Природная зона Африки, где растут баобабы, акации, а среди травянистой растительности пасутся антилопы, буйволы, зебры, называется:

1) переменнo-влажные леса; 2) саванны и редколесья; 3) жестколистные леса и кустарники; 4) тропические пустыни и полупустыни.

Напишите словами определения или понятия.

11. Как называются участки суши с абсолютной высотой свыше 1000м.

12. Мощное тёплое течение у берегов Северной Америки, формируется под действием силы тяжести и ветра, называется...

13. Субтропические степи на лессовых равнинах Южной Америки, главным образом в Аргентине и Уругвае, называются...

14. Как называют южную полярную область Земли, расположенную до 50-60°ю.ш.

15. Самое большое озеро Австралии, называется...

Установите соответствие.

16. Установите соответствие между крайними точками Австралии и их координатами:

1) м. Йорк	а) 38°ю.ш., 147°в.д.,
2) м. Юго-Восточный	б) 28°ю.ш., 154°в.д.,
3) м. Стип-Пойнт	в) 11°ю.ш., 143°в.д.,
4) м. Байрон	г) 26°ю.ш., 114°в.д.

17. Установите соответствие между горными породами и месторождениями полезных ископаемых.

1) Кристаллические породы платформ;	а) каменный уголь, нефть, природный газ, фосфориты.
2) Продукты выветривания кристаллических пород	б) железные руды, свинец, титан, цинк, медь, уран.
3) Осадочные породы	в) бокситы, железные руды

предгорных прогибов осадочного происхождения.

Сконструируйте правильное утверждение.

18. Островов вблизи Африки мало, крупнейший из них (1), на востоке в Индийский океан врезается полуостров (2), а на западе в сушу вдаётся (3) залив. Слова для вставки:

- 1 – (Врангеля), (Мадагаскар), (Калимантан).
- 2 – (Пиренейский), (Лабрадор), (Сомали), (Флорида).
- 3 – (Гвинейский), Бискайский), 9Гудзонов), (Персидский).

СПЕЦИФИКАЦИЯ

итоговой проверочной работы по географии за курс 7 класса школы.

1. Назначение КИМ итоговой контрольной работы.

Контрольные измерительные материалы позволяют установить уровень освоения семиклассниками Федерального компонента государственного стандарта основного общего образования по географии 7 класса.

2. Документы, определяющие содержание КИМ.

Содержание итоговой работы определяется на основе документов:

- Федеральный компонент государственного стандарта основного общего образования (приказ Минобрнауки России от 05.03.2004 №1089)
- Программа Домогацких Е.М. (Программа курсов «География» для 5-9 классов. - М.: Русское слово, 2012)

3. Подходы к отбору содержания, разработке структуры КИМ

Отбор содержания, подлежащего проверке в итоговой работе осуществляется в соответствии с разделом «Обязательный минимум содержания основных образовательных программ» Федерального компонента государственных стандартов основного общего образования. В каждый вариант включены задания, проверяющие уровень знания содержания всех основных разделов курса Географии материков и океанов и выполнение основных требования к уровню подготовки семиклассников.

4. Структура проверочной работы.

Работа состоит из 18 заданий. Задания проверяют знания, составляющие основу географической грамотности, а также способность применять знания и умения в контекстах, соответствующих основным разделам курса. Работа содержит 10 заданий с выбором одного верного ответа из четырех предложенных, 7 заданий с кратким ответом, 1 задания с выбором географических объектов и подставления их в заданный текст.

Распределение заданий проверочной работы по частям работы.

№ п/п	Части работы	Число заданий	Максимальный первичный балл	Тип заданий.
1	Часть I	10 простых	10	Выбор одного правильного ответа из 4.
2	Часть II	7 средней сложности	9	Определение данного понятия. Соотнести географические объекты и их координаты. Соотнести между собой объекты литосферы.
3	Часть III	1 сложное	3	Выбрать географические объекты и подставить их заданный текст.

5. Распределение заданий проверочной работы по содержанию и видам учебной деятельности.

Содержание проверочной работы можно разделить на 7 блоков обязательного минимума содержания образования.

Первый блок включает задания №1,5, по теме «География в современном мире. Математическая основа карт». Второй – задания №8,9,17 по теме «Литосфера». Третий – задания №6,11,13 по теме «Атмосфера». Четвертый – задания №4, 12 по теме «Гидросфера». Пятый – задания №2, 10, 14, 15, 16, 18, по теме «Материки». Шестой – задание №7, по теме «Исследователи». Седьмой – задание № 3, по теме «Страны мира».

Проверочная работа предусматривает разные виды учебной деятельности. Задания I части (1-15) позволяют проверить освоение наиболее значимого содержания: знание фактов и закономерностей по данным темам, элементарных причинно-следственных связей, сформированность простейших географических умений и пространственных представлений. Во II части представлены задания (16-17), в которых необходимо сделать множественный выбор. Они предполагают более глубокое знание фактов и сформированность пространственных представлений о конкретных территориях. Сложное задание III части направлено на проверку умения устанавливать связи между различными географическими объектами.

Распределение заданий по содержанию и видам учебной деятельности.

Содержание	Воспроизведение знаний	Применение знаний в знакомой ситуации	Применение знаний в измененной ситуации	Итог о
География в современном мире. Математическая основа карт.	-	1(№1, №5)	-	2
Литосфера	2 (№8, №9)	-	1 (№17)	3
Атмосфера	1 (№6)	2 (№11, №13)	-	3
Гидросфера	1 (№4)	1 (№12)	-	2
Материки	2 (№2, №10)	2 (№14, №15)	2 (№16, №18)	6
Исследователи	1 (№7)			1
Страны мира		1 (№3)		1

7. Распределение заданий проверочной работы по уровню сложности.

Работа включает в себя 55% простых заданий, 39% средней сложности и 6% сложных.

8. Время выполнения работы.

На выполнение проверочной работы отводится 45 мину.

9. Число вариантов в работе.

Подготовлено два варианта, в которых даны однотипные задания на проверку одинаковых знаний, умений и тем курса.

Ключ:

Вариант 1.

1-4; 2-2; 3-2; 4-4; 5-4; 6-4; 7-3; 8-3; 9-4; 10-3;

11. Низменность

12. Пассат

13. Залив

14. Самбо

15. Европа

16. 1-г, 2-в, 3-а, 4-б

17. 1-б, 2-в, 3-а

18. (1)-Капрентария

(2)-Кейп-Йорк

(3)-Тасмания

Вариант 2.

1-3; 2-4; 3-3; 4-4; 5-1; 6-3; 7-3; 8-2; 9-2; 10-2

11. Горы;

12. Гольфстрим

13. Пампа

14. Антарктика

15. Эйр

16. 1-в; 2-а; 3-г; 4-б

17. 1-б; 2-в; 3-а

18. (1)-Мадагаскар

(2)-Самали

(3)-Гвинейский

10. Система оценивания отдельных заданий и работы в целом.

За каждый правильный ответ первой части (№1-10) ставится 1 балл. За правильное выполнение заданий II части, №11-15 – 1 балл, №16-17 – 2 балла. За правильно выбранный географический объект в 18 вопросе (III часть) – 1 балл, всего 3 балла. Максимальный балл за работу – 22 балла. «3» получает работа с 7-11, «4» - с 12-17, «5» - с 18-22 баллами.

Перечень проверяемых требований стандарта

№ задания	Проверяемое требование	Тип задания	Кол-во ответов	Время выполнения задания
1	Уметь	Выбор	4	2 мин.
2	Знать/понимать	Выбор	4	2 мин.
3	Уметь	Выбор	4	2 мин.
4	Знать/понимать	Выбор	4	2 мин.
5	Уметь	Выбор	4	2 мин.
6	Знать/понимать	Выбор	4	2 мин.
7	Знать/понимать	Выбор	4	2 мин.
8	Знать/понимать	Выбор	4	2 мин.
9	Знать/понимать	Выбор	4	2 мин.
10	Знать/понимать	Выбор	4	2 мин.
11	Уметь	Дать краткий ответ	-	2 мин.
12	Уметь	Дать краткий ответ	-	2 мин.
13	Уметь	Дать краткий ответ	-	2 мин.
14	Уметь	Дать краткий ответ	-	2 мин.
15	Уметь	Дать краткий ответ	-	2 мин.
16	Использовать приобретенные знания и умения в практической деятельности и повседневной жизни	Соотнести	-	3 мин.
17	Использовать приобретенные знания и умения в практической деятельности и повседневной жизни	Соотнести	-	3 мин.
18	Использовать приобретенные знания и умения в практической деятельности и повседневной жизни	Выбрать географические объекты и вставить в текст	-	5 мин.

Итоговый тест по географии 8 класс

1 вариант.

1. Укажите крайнюю северную материковую точку России

- 1) мыс Челюскин; 2) Мыс Диксон; 3) Мыс Флигели; 4) Мыс Лопатка

2. С какой страной Россия не имеет сухопутных границ:

- 1) Украина; 2) Белоруссия; 3) Армения; 4) Азербайджан.

3. Выявите, какое время показывают часы в Москве (II часовой пояс), если известно, что в г. Норильске (VI часовой пояс) в данный момент 20 ч.

- 1) 16 ч.; 2) 24 ч.; 3) 2 ч.; 4) 17 ч.

4. Обширная область земной коры, обладающая устойчивостью, это –

- 1) Платформа, 2) Горст, 3) Щит, 4) Морена

5. Западная Сибирь, Волго-Уральский район, Европейский Север, шельф Сахалина - это крупные ресурсные районы. Определите, запасы какого полезного ископаемого здесь сосредоточены

- 1) угля; 2) нефти и газа; 3) железных руд; 4) руд цветных металлов

6. Определите, какой из типов климата характеризуется следующим набором свойств: годовая амплитуда температур 50-60 °С, небольшая (0,2-0,3м) высота снежного покрова, господство антициклональных типов погоды

- 1) морской; 3) умеренно-континентальный;
2) континентальный; 4) резко континентальный.

7. Какой из перечисленных городов, показанных на карте, находится в зоне действия антициклона?

- 1) Архангельск; 2) Сыктывкар; 3) Ростов-на-Дону; 4) Нижний Новгород

8. Карта погоды составлена на 17 января. В каком из перечисленных городов, показанных на карте, на следующий день вероятно существенное похолодание?

- 1) Москва 2) Омск 3) Тюмень 4) Элиста

9. Определите, какие из перечисленных рек относятся к бассейну Северного Ледовитого океана

- 1) Дон, Кубань; 2) Волга, Терек, Урал; 3) Амур; 4) Лена, Енисей, Обь

10. Заполненное водой крупное естественное понижение земной поверхности – это:

- 1) болото 2) река 3) водохранилище 4) озеро

11. Амур, Бурея, Зея относятся к рекам с:

- 1) весенним половодьем, 3) летним половодьем,
2) паводочным режимом, 4) равномерным стоком.

12. Процесс разрушения почвы водой и ветром называется:

- 1) Агротехникой 2) Мелиорацией 3) Эрозией 4) Рекультивацией

13. Какая из перечисленных природных зон занимает наибольшую площадь в России?

- 1) лесотундра 2) тундра 3) тайга 4) степь

14. Группа студентов из Ростова-на-Дону занимается изучением экосистем крупных рек. Какой из перечисленных заповедников им необходимо посетить для изучения экосистем дельты одной из крупнейших рек Сибири?

- 1) Усть-Ленский 3) Печоро-Илычский
2) Тебердинский 4) Окский

15. Для зоны тундр характерны животные (выберите двоих):

- 1) песец 2) белый медведь, 3) лемминг, 4) бурый медведь, 5) лось.

16. Воссоздайте правильную последовательность почвенных горизонтов от поверхности вглубь земли?

- 1) материнская порода 2) гумусовый 3) вымывания 4) вмывания

17. Какой зональный тип почв формируется под хвойными лесами в условиях избыточного увлажнения и умеренно-теплого лета?

18. Во время экскурсии учащиеся сделали схематическую зарисовку залегания горных пород на обрыве у берега реки.

Расположите показанные на рисунке слои горных пород в порядке **возрастания** их возраста (от самого молодого до самого старого).

Запишите в получившуюся последовательность букв

- А) глина
- Б) кварцит
- В) песок

19. Перечислите все известные вам причины большого количества озер в Карелии и на Кольском полуострове.

2 вариант

1. Укажите крайнюю восточную материковую точку России

- 1) Мыс Челюскин; 2) Мыс Дежнева; 3) Гора Базардюзю; 4) Мыс Флигели

2. Самая короткая граница России с государством:

- 1) Грузия; 2) КНДР; 3) Азербайджан; 4) Китай.

3. Выявите, какое время показывают часы в Хабаровске (IX часовой пояс), если известно, что в г. Челябинске (IV часовой пояс) в данный момент 7 ч.

- 1) 16 ч.; 2) 24 ч.; 3) 12 ч.; 4) 13 ч.

4. Участок древней платформы, где кристаллический фундамент выходит на поверхность земли это –

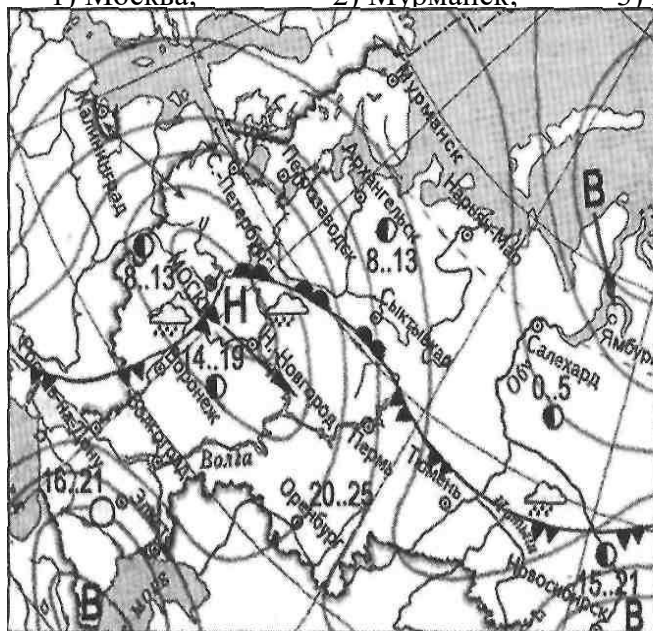
- 1) Щит, 2) Горст, 3) Грабен, 4) Морен

5. Укажите, какой из природных районов России наиболее обеспечен гидроэнергетическими ресурсами

- 1) Восточно-Европейская равнина; 2) Западная Сибирь;
- 3) Средняя и Северо-Восточная Сибирь; 4) Дальний Восток

6. Укажите, какой из перечисленных населенных пунктов имеет среднеянварскую температуру воздуха -24°C

- 1) Москва; 2) Мурманск; 3) Воркута; 4) Якутск



- 1) атмосферный фронт
- 2) холодный атмосферный фронт
- 3) область высокого атмосферного давления
- 4) Санкт-Петербург
- 5) горы
- 6) горы
- 7) горы
- 8) горы
- 9) горы
- 10) горы
- 11) горы
- 12) горы
- 13) горы
- 14) горы
- 15) горы
- 16) горы
- 17) горы
- 18) горы
- 19) горы
- 20) горы
- 21) горы
- 22) горы
- 23) горы
- 24) горы
- 25) горы
- 26) горы
- 27) горы
- 28) горы
- 29) горы
- 30) горы
- 31) горы
- 32) горы
- 33) горы
- 34) горы
- 35) горы
- 36) горы
- 37) горы
- 38) горы
- 39) горы
- 40) горы
- 41) горы
- 42) горы
- 43) горы
- 44) горы
- 45) горы
- 46) горы
- 47) горы
- 48) горы
- 49) горы
- 50) горы
- 51) горы
- 52) горы
- 53) горы
- 54) горы
- 55) горы
- 56) горы
- 57) горы
- 58) горы
- 59) горы
- 60) горы
- 61) горы
- 62) горы
- 63) горы
- 64) горы
- 65) горы
- 66) горы
- 67) горы
- 68) горы
- 69) горы
- 70) горы
- 71) горы
- 72) горы
- 73) горы
- 74) горы
- 75) горы
- 76) горы
- 77) горы
- 78) горы
- 79) горы
- 80) горы
- 81) горы
- 82) горы
- 83) горы
- 84) горы
- 85) горы
- 86) горы
- 87) горы
- 88) горы
- 89) горы
- 90) горы
- 91) горы
- 92) горы
- 93) горы
- 94) горы
- 95) горы
- 96) горы
- 97) горы
- 98) горы
- 99) горы
- 100) горы

России:

- 1) подзолистые 2) серые лесные 3) каштановые 4) черноземы.

14. Группа туристов из США хочет своими глазами увидеть природу сибирской тайги и посмотреть окрестности уникального озера Байкал. Какой из

перечисленных заповедников им необходимо посетить?

- 1) Тунгусский; 2) Баргузинский; 3) Буреинский; 4) Дагестанский.

15. Растительный мир зоны тундр в основном представлен следующими растениями (выберите два):

- 1) кустарничками; 3) лиственными деревьям 5) травами;
2) мхами; 4) хвойными деревьями

16. Перечислите правильный порядок смены типов почв с севера на юг:

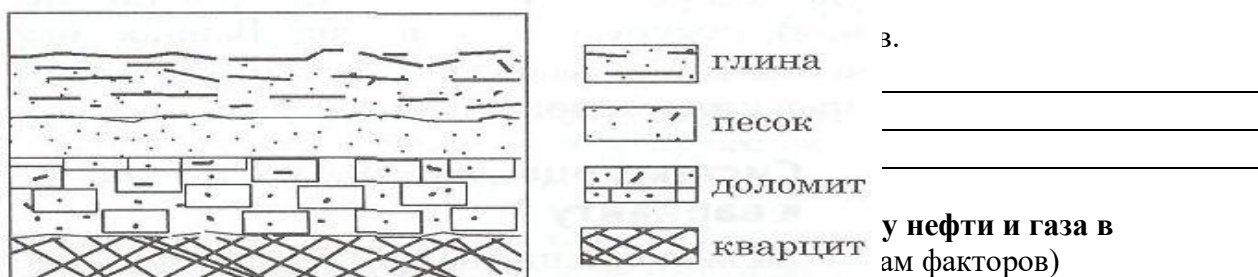
- 1) каштановые; 2) дерно-подзолистые; 3) тундрово-глеевые; 4) подзолистые

17. В одной из природных зон растения имеют следующие особенности: стелющиеся и карликовые формы, многолетний цикл развития, преобладают мхи и лишайники.

Определите природную зону.

18. Во время экскурсии учащиеся сделали схематическую зарисовку залегания горных пород на обрыве у берега реки

Расположите показанные на рисунке слои горных пород в порядке возрастания



3.

у нефти и газа в ам факторов)

СПЕЦИФИКАЦИЯ

итоговой проверочной работы по географии за курс 8 класса школы.

1. Назначение КИМ итоговой контрольной работы.

Контрольные измерительные материалы позволяют установить уровень освоения восьмиклассниками Федерального компонента государственного стандарта основного общего образования по географии 8 класса.

2. Документы, определяющие содержание КИМ.

Содержание итоговой работы определяется на основе документов:

- Федеральный компонент государственного стандарта основного общего образования (приказ Минобразования России от 05.03.2004 №1089)
- Программа Домогацких Е.М. (Программа курсов «География» для 5-9 классов. - М.: Русское слово, 2012)

3. Подходы к отбору содержания, разработке структуры КИМ

Отбор содержания, подлежащего проверке в итоговой работе осуществляется в соответствии с разделом «Обязательный минимум содержания основных образовательных программ» Федерального компонента государственных стандартов основного общего образования. В каждый вариант включены задания, проверяющие уровень знания содержания всех основных разделов курса Физической географии России и выполнение основных требования к уровню подготовки восьмиклассников.

4. Структура проверочной работы.

Работа состоит из 19 заданий. Задания проверяют знания, составляющие основу географической грамотности, а также способность применять знания и умения в контекстах, соответствующих основным разделам курса. Работа содержит 14 заданий с выбором одного верного ответа из четырех предложенных, 1 задания с выбором двух правильных ответов из 5, 1 задание с кратким ответом, 2 задания на определение правильного порядка географического явления, 1 задание с развернутым ответом, в которых требуется найти причинно-следственные связи данного явления.

Распределение заданий проверочной работы по частям работы.

№ п/п	Части работы	Число заданий	Максимальный первичный балл	Тип заданий.
-------	--------------	---------------	-----------------------------	--------------

1	Часть I	14 простых	14	Выбор одного правильного ответа из 4.
2	Часть II	4 средней сложности	6	Выбор двух правильных ответов из 5. Дать краткий ответ. Определить правильные порядок географического явления.
3	Часть III	1 сложное	3	Найти причинно-следственные связи заданного явления природы.

5. Распределение заданий проверочной работы по содержанию и видам учебной деятельности.

Содержание проверочной работы можно разделить на 6 блоков обязательного минимума содержания образования.

Первый блок включает задания №1-3, по теме «Россия на карте мира». Второй – задания №4, 5, 18 по теме «Геологическое строение и рельеф». Третий – задания №6-8 по теме «Климат России». Четвертый – задания №9, 10, 11, 19 по теме «Внутренние воды». Пятый – задания №12, 16, 17 по теме «Почвы». Шестой – задания №13-15, по теме «Природные зоны».

Проверочная работа предусматривает разные виды учебной деятельности. Задания I части (1-14 и 16) позволяют проверить освоение наиболее значимого содержания: знание фактов и закономерностей по данным темам, элементарных причинно-следственных связей, сформированность простейших географических умений и пространственных представлений. Во II части представлены задания (15, 17, 18), в которых необходимо сделать множественный выбор. Они предполагают более глубокое знание фактов и сформированность пространственных представлений о конкретных территориях. Сложное задание III части (19) направлено на проверку умения выявлять причинно-следственные связи.

Распределение заданий по содержанию и видам учебной деятельности.

Содержание	Воспроизведение знаний	Применение знаний в знакомой ситуации	Применение знаний в измененной ситуации	Итого
Россия на карте мира.	2 (№1, №2)	1 (№3)		3
Геологическое строение и рельеф	2 (№4)	1 (№5)	1 (№18)	3
Климат России	-	3 (№6, №7, №8)	-	3
Внутренние воды	1 (№10)	2 (№9, №11)	1 (№19)	4
Почвы	1 (№12)	2 (№16, №17)		3
Природные зоны	2 (№13, №15)	1 (№14)		3

7. Распределение заданий проверочной работы по уровню сложности.

Работа включает в себя 74% простых заданий, 21% средней сложности и 5% сложных.

8. Время выполнения работы.

На выполнение проверочной работы отводится 45 минут.

9. Число вариантов в работе.

Подготовлено два варианта, в которых даны однотипные задания на проверку одинаковых знаний, умений и тем курса.

Ключ:

Вариант 1. 1.1); 2.3); 3.1); 4.1); 5.2); 6.4); 7.3); 8.1); 9.4); 10.4); 11.3); 12.3); 13.3); 14.1); 15.1)3); 16.2)3)4)1); 17.Подзолистые; 18.АВБ 19.Избыточное увлажнение, естественные природные углубления.

Вариант 2. 1.2); 2.2); 3.3); 4.1); 5.3); 6.3); 7.3); 8.1); 9.1); 10.3); 11.4); 12.3); 13.1); 14.2); 15.1)2); 16.3)4)2)1); 17.Тундра; 18.АВБ; 19. Суровый климат, болота.

10. Система оценивания отдельных заданий и работы в целом.

За каждый правильный ответ первой части (№1-14) ставится 1 балл. За правильное выполнение каждого из заданий II части, №15, 17 – 1 балл, №16, 18 – 2 балла. За правильно названную причину в 19 вопросе (III часть) – 1 балл, всего 3 балла. Максимальный балл за работу – 23 балла. «3» получает работа с 7-11, «4» - с 12-17, «5» - с 18-23 баллами.

Перечень проверяемых требований стандарта

№ задания	Проверяемое требование	Тип задания	Количество ответов	Время выполнения задания.
1	Знать/понимать	Выбор	4	2 мин.
2	Знать/понимать	Выбор	4	2 мин.
3	Уметь	Выбор	4	2 мин.
4	Знать/понимать	Выбор	4	2 мин.
5	Уметь	Выбор	4	2 мин.
6	Уметь	Выбор	4	2 мин.
7	Уметь	Выбор	4	2 мин.
8	Уметь	Выбор	4	2 мин.
9	Уметь	Выбор	4	2 мин.
10	Знать/понимать	Выбор	4	2 мин.
11	Уметь	Выбор	4	2 мин.
12	Знать/понимать	Выбор	4	2 мин.
13	Знать/понимать	Выбор	4	2 мин.
14	Уметь	Выбор	4	2 мин.
15	Знать/понимать	Выбор	5	2 мин.
16	Уметь	Определить правильные порядок географического явления.	4	3 мин.
17	Уметь	Дать краткий ответ	-	2 мин.
18	Использовать приобретенные знания и умения в практической деятельности и повседневной жизни	Определить правильные порядок географического явления.	3	3 мин.
19	Использовать приобретенные знания и умения в практической деятельности и повседневной жизни	Найти причинно-следственные связи заданного явления природы.	-	5

2. Какой из перечисленных районов относится к Восточной экономической зоне:

- 1) Уральский; 2) Поволжский; 3) Дальневосточный; 4) Северный.

3. Назовите основной район добычи природного газа в России:

- 1) Северный район 3) Поволжье
2) Западная Сибирь 4) Северный Кавказ

4. К традиционным занятиям какого из перечисленных народов России относятся оленеводство и рыболовство?

- 1) башкиры; 2) ненцы; 3) чувашаи; 4) кабардинцы.

5. Какой из перечисленных городов России является наибольшим по численности населения?

- 1) Нижний Новгород; 2) Киров; 3) Петрозаводск; 4) Архангельск.

6. Какой из перечисленных регионов России находится в пределах главной полосы расселения:

- 1) Ямало-Ненецкий АО; 3) Омская область;
2) Магаданская область; 4) Чукотский АО.

7. О каком социально-экономическом процессе в России говорится в

следующем высказывании: «В 50-е годы прошлого столетия большой поток переселенцев (более 1,5 млн человек) направился на целинные земли Северного Казахстана и Западной Сибири. Помимо переселений между районами характерным процессом в это время было переселение огромного числа сельских жителей в города».

8. Укажите отрасль хозяйства, относящуюся к производственной сфере:

- 1) строительство 3) управление
2) связь 4) образование

9. Наиболее мощные гидроэлектростанции построены:

- 1) на Енисее; 2) на Ангаре; 3) на Волге; г) на Оби.

10. Какой вид транспорта лидирует по грузообороту в России?

- 1) Авиационный; 3) Железнодорожный;
2) Автомобильный; 4) Речной.

11. Какой из перечисленных городов России является центром черной металлургии:

- 1) Псков; 2) Магнитогорск; 3) Тюмень; 4) Петрозаводск.

12. Нижегородская область - один из наиболее экономически развитых регионов России. Здесь развиты многие отрасли промышленности, в том числе целлюлозно-бумажная. В 1925 г. на территории Нижегородской области началось строительство Балахнинского целлюлозно-бумажного комбината. Решающими факторами при выборе места для его строительства стали выгодное ЭПП: близость к основным потребителям бумаги, железнодорожные и водные пути сообщения, а также наличие крупного источника электрической и тепловой энергии (Нижегородской ГРЭС).

Карты какого географического региона России необходимо выбрать, чтобы определить местоположение Нижегородской области?

- 1) Центральной России; 3) Европейского Севера;
2) Урала; 4) Европейского Юга.

13. Какие особенности природно-ресурсной базы Нижегородской области способствовали развитию Балахнинского ЦБК? Укажите две особенности. Обоснованный ответ запишите на отдельном листе или бланке, указав сначала номер задания.

14. Туристические фирмы разных регионов России разработали слоганы (рекламные лозунги) для привлечения туристов в свои регионы. Установите соответствие между слоганом и регионом. СЛОГАН

А) Мы предлагаем сплав по реке Катунь, которая берет начало в ледниках высочайшей горы Сибири!

Б) Полюбуйтесь на высочайший действующий вулкан Евразии!

РЕГИОН

- 1) Владимирская область;
- 2) Амурская область;
- 3) Камчатский край;
- 4) Республика Алтай.

А	Б

15. Расположите регионы страны в той последовательности, в которой их жители встречают Новый год. Запишите в таблицу получившуюся последовательность букв.

- А) Курская область
- Б) Магаданская область
- В) Новосибирская область.

1	2	3

16. Из перечисленных субъектов Российской Федерации выберите три, относящихся к Уралу.

- 1) Курганская обл.;
- 2) Карачаево-Черкесская р-ка;
- 3) р-ка Северная Осетия;
- 4) Вологодская обл.;
- 5) Челябинская обл.;
- 6) Пермский край.

17. Из предложенных вариантов выбери два, которые характеризуют экономико-географического положение Европейского Севера.

- 1) Лежит в мягком климате.
- 2) Имеет выход к Северному морскому пути.
- 3) Имеет выход к государственной границе с Литвой.
- 4) Имеет выход к государственной границе с Финляндией.
- 5) На западе граничит с Поволжьем.

18. Определите регион России.

Эта республика расположена в европейской части России, площадь территории составляет 415,9 тыс. км². Её столица расположена на левом берегу реки, относящейся к бассейну Северного Ледовитого океана. Плотность населения в республике очень низкая (около 2 чел. на 1 км²). Здесь находится крупный угольный бассейн, есть месторождения нефти и газа. Добыча полезных ископаемых ведется в сложных природных условиях. Республика богата лесными и водными ресурсами. Ведущие отрасли специализации экономики – топливная и лесная, получила развитие целлюлозно-бумажная промышленность.

СПЕЦИФИКАЦИЯ

итоговой проверочной работы по географии за курс 9 класса школы.

1. Назначение КИМ итоговой контрольной работы.

Контрольные измерительные материалы позволяют установить уровень освоения девятиклассниками Федерального компонента государственного стандарта основного общего образования по географии 9 класса.

2. Документы, определяющие содержание КИМ.

Содержание итоговой работы определяется на основе документов:

- Федеральный компонент государственного стандарта основного общего образования (приказ Минобрнауки России от 05.03.2004 №1089)
- Программа Домогацких Е.М. (Программа курсов «География» для 5-9 классов. - М.: Русское слово, 2012)

3. Подходы к отбору содержания, разработке структуры КИМ

Отбор содержания, подлежащего проверке в итоговой работе осуществляется в соответствии с разделом «Обязательный минимум содержания основных образовательных программ» Федерального компонента государственных стандартов основного общего

образования. В каждый вариант включены задания, проверяющие уровень знания содержания всех основных разделов курса Экономической и социальной географии России и выполнение основных требования к уровню подготовки девятиклассников.

4. Структура проверочной работы.

Работа состоит из 18 заданий. Задания проверяют знания, составляющие основу географической грамотности, а также способность применять знания и умения в контекстах, соответствующих основным разделам курса. Работа содержит 11 заданий с выбором одного верного ответа из четырех предложенных, 1 задания с выбором двух правильных ответов из 5, 1 задание с выбором трех правильных ответов из 6, 2 задания с кратким ответом, 1 задание на определение правильного порядка географического явления, 1 задание на сопоставление, 1 задание с развернутым ответом, в котором требуется найти причинно-следственные связи экономического явления.

Распределение заданий проверочной работы по частям работы.

№ п/п	Части работы	Число заданий	Максимальный первичный балл	Тип заданий.
1	Часть I	11 простых	11	Выбор одного правильного ответа из 4.
2	Часть II	5 средней сложности	5	Выбор двух правильных ответов 5. Выбор двух правильных ответов 6. Дать краткий ответ. Сопоставить. Определить правильные порядок.
3	Часть III	2 сложное	3	Найти причинно-следственные связи экономического явления. Определить регион по описанию

5. Распределение заданий проверочной работы по содержанию и видам учебной деятельности.

Содержание проверочной работы можно разделить на 6 блоков обязательного минимума содержания образования.

Первый блок включает задания №1, 15, по теме «Россия на карте мира». Второй – задание №3 по теме «Природные ресурсы». Третий – задания №4-7 по теме «Население России». Четвертый – задания №8-10, 13 по теме «Хозяйство». Пятый – задания №2, 11, 12, 14, 16, 17, 18 по теме «Экономические районы».

Проверочная работа предусматривает разные виды учебной деятельности. Задания I части (1-6, 8-12) позволяют проверить освоение наиболее значимого содержания: знание фактов и закономерностей по данным темам, элементарных причинно-следственных связей, сформированность простейших географических умений и пространственных представлений. Во II части представлены задания (7, 14-17), в которых необходимо сделать множественный выбор. Они предполагают более глубокое знание фактов и сформированность пространственных представлений о конкретных территориях и экономических явлениях. Сложные задания III части (13, 18) направлено на проверку умения выявлять причинно-следственные связи, определять объект по описанию.

Распределение заданий по содержанию и видам учебной деятельности.

Содержание	Воспроизведение знаний	Применение знаний в знакомой ситуации	Применение знаний в измененной ситуации	Итого
Россия на карте мира.	1 (№1)	1 (№15)	-	2
Природные ресурсы	1 (№3)	-	-	1
Население России	3(№4, №5, №6)	1 (№7)	-	4

Хозяйство России	3 (№8, №9, №10)	-	1 (№13)	4
Экономические районы	2 (№2, №11)	4 (№12, №14, №16, №17)	1 (№18)	7

7. Распределение заданий проверочной работы по уровню сложности.

Работа включает в себя 61% простых заданий, 28% средней сложности и 11% сложных.

8. Время выполнения работы.

На выполнение проверочной работы отводится 45 мину.

9. Число вариантов в работе.

Подготовлено два варианта, в которых даны однотипные задания на проверку одинаковых знаний, умений и тем курса.

Ключ:

Вариант 1. 1.3); 2.1); 3.3); 4.1); 5.2); 7.Урбанизация; 8.3); 9.1); 10.1); 11.2); 12.1); 13. Сырьевой, трудовой; 14.А1) Б2); 15 БВА; 16.1)3)6); 17.2)4); 18. Краснодарский край.

Вариант 2. 1.3); 2.3); 3.2); 4.2); 5.1); 6.3); 7.Миграция4 8.1); 9.2); 10.3); 11.2); 12.1); 13.Наличие леса и воды; 14.А4) Б3); 15.БВА; 16.1)5)6); 17.2)4); 18.Республика Коми.

10. Система оценивания отдельных заданий и работы в целом.

За каждое задание полностью выполненное ставится 1 балл (все задания кроме 13). В 13 вопросе 1 балл дается за каждое подкрепленное обоснование, всего 2 балла. Максимальный балл за работу – 18 баллов. «3» получает работа с 6-9, «4» - с 10-14, «5» - с 15-18 баллами.

Перечень проверяемых требований стандарта

№ задания	Проверяемое требование	Тип задания	Количество ответов	Время выполнения задания.
1	Знать/понимать	Выбор	4	2 мин.
2	Знать/понимать	Выбор	4	2 мин.
3	Знать/понимать	Выбор	4	2 мин.
4	Знать/понимать	Выбор	4	2 мин.
5	Знать/понимать	Выбор	4	2 мин.
6	Знать/понимать	Выбор	4	2 мин.
7	Уметь	Дать краткий ответ	-	2 мин.
8	Знать/понимать	Выбор	4	2 мин.
9	Знать/понимать	Выбор	4	2 мин.
10	Знать/понимать	Выбор	4	2 мин.
11	Знать/понимать	Выбор	4	2 мин.
12	Уметь	Выбор	4	2 мин.
13	Использовать приобретенные знания и умения в практической деятельности и повседневной жизни	Дать обоснование	-	5 мин.
14	Уметь	Сопоставить	2	2 мин.
15	Уметь	Определить правильный порядок	3	2 мин.
16	Уметь	Выбор	6	3 мин.
17	Уметь	Выбор	5	3 мин.
18	Использовать	Определить регион по	-	3 мин.

	приобретенные знания и умения в практической деятельности и повседневной жизни	описанию		
--	---	----------	--	--